

Зимняя школа.  
Всероссийская  
олимпиада  
школьников





**1. Выберите реально существующий географический объект.**


**A. Тиманский берег**

**B. Тиманская возвышенность**

**C. Тиманское плато**

**D. Тиманские увалы**

**E. Тиманский хребет**



**2. Выберите утверждения, характеризующее направление на север.**

- A. Отбрасываемые тени от любых предметов в полдень**
- B. Если встать лицом к Полярной звезде в полночь**
- C. Крутой склон муравейника**
- D. Наибольшая сумма двух чисел на квартальном столбе**
- E. Верхний конец нижней перекладины на кресте православного храма.**

### **3. Выберите ошибку в сравнительной характеристике Индийского и Тихого океанов.**

- A. Тихий океан существенно больше по площади, чем Индийский**
- B. Средняя соленость вод Индийского океана выше, чем у Тихого**
- C. Биологическая продуктивность Индийского океана больше, чем у Тихого**
- D. Межпассатные противотечения характерны для обоих океанов**
- E. Абсолютные глубины Тихого океана больше, чем у Индийского**

**4. Укажите, для какой территории зенитальное положение Солнца наступает в период с 23 сентября по 22 декабря.**


**A. м. Альмади**

**B. м. Игольный**

**C. влк. Камерун**

**D. влк. Килиманджаро**

**E. м. Рас-Хафун**



**5. Выберите море, от шельфа которого простирается подводный хребет Ломоносова, проходящий вблизи Северного географического полюса.**

**A. Баренцево**

**B. Карское**

**C. Лаптевых**

**D. Берингово**

**E. Чукотское**

**6. Найдите соответствия: арктический архипелаг - его крупнейший по площади остров.**

- |   |                                 |
|---|---------------------------------|
| <b>A. Канадский Арктический архипелаг</b> | <b>1) Баффинова Земля</b>       |
| <b>B. Земля Франца Иосифа</b>             | <b>2) Георга Земля</b>          |
| <b>C. Новая Земля</b>                     | <b>3) Котельный</b>             |
| <b>D. Новосибирские острова</b>           | <b>4) Октябрьской Революции</b> |
| <b>E. Северная Земля</b>                  | <b>5) Северный</b>              |



**7. Расставьте федеральные округа РФ в порядке убывания численности населения.**

**А. Дальневосточный федеральный округ**

**В. Приволжский федеральный округ**

**С. Северо-Кавказский федеральный округ**

**Д. Сибирский федеральный округ**

**Е. Южный федеральный округ**



## **8. Найдите соответствия: отрасль машиностроения - центры, которыми она представлена.**

- A. энергетическое машиностроение**
- B. электротехническое машиностроение**
- C. горношахтное и горнорудное машиностроение**
- D. авиационное машиностроение**
- E. сельскохозяйственное машиностроение**

- 1) Биробиджан, Рязань, Липецк**
- 2) Казань, Таганрог, Самара**
- 3) Магнитогорск, Первоуральск, Новокузнецк**
- 4) Саранск, Пермь, Омск**
- 5) Санкт-Петербург, Волгодонск, Белгород**

**9. Найдите соответствия: страна - столица - крупнейший по численности населения город.**

**A. Пакистан**

**B. Бенин**

**C. Мальта**

**D. Вьетнам**

**E. Танзания**

**1) Ханой**

**2) Исламабад**

**3) Валетта**

**4) Додома**

**5) Порто-  
Ново**

**I. Котону**

**II. Баркиркара**

**III. Дар-эс-Салам**

**IV. Хошимин**

**V. Карачи**



**10. Расположите страны в порядке обретения ими независимости.**

**A. Южный Судан**

**B. Мозамбик**

**C. Намибия**

**D. Марокко**

**E. Нигер**

**11. В 2014 г. Географы России отметили несколько юбилейных дат в истории отечественной географии. Найдите соответствия: географическое событие – юбилейная дата.**

- A. исследователи Алтая братья М.В. и Б.В. Троновы совершили первое восхождение на г. Белуха
- B. окончилась первая кругосветная океанографическая экспедиция на судне «Витязь» под руководством адмирала С.О. Макарова
- C. опубликовано постановление правительства «О преподавании географии в начальной и средней школе СССР» и был основан журнал «География в школе»
- D. основан Географический департамент Петербургской Академии наук с целью ускорения картографических работ по составлению атласа России и самых разнообразных карт
- E. родился выдающийся русский путешественник Н.М. Пржевальский


- 1) 22.10.1739 (275)
- 2) 12.04.1839 (175)
- 3) 13.06.1889 (125)
- 4) 26.06.1914 (100)
- 5) 16.05.1934 (80)

12. По переписи населения Российской Федерации 2010 г. численность населения этого народа составляла 503,1 тыс. чел. Большая их часть проживает на территории республики, занимающей самое южное географическое положение в нашей стране. Это шестой по численности населения тюркский народ России, давший свое название равнине, выходящей к берегам крупнейшего по площади озера мира. Представители данного этноса исповедуют ислам суннитского толка. Традиционно народ занимается земледелием, в т.ч. хлебопашеством, садоводством, виноградарством и, понемногу, скотоводством.



### **13. Напишите названия географических объектов, о которых идет речь.**

**Город (А) является вторым по числу жителей (почти 500 тыс. жителей в 2012 г.) одной из республик бывшего СССР – (Б). Это один из старейших городов мира, видевший войска Александра Македонского. Более двух тысяч лет он являлся ключевым пунктом на трассе Великого (В) пути из Азии в Европу. Город раскинулся в долине реки (Г). Он находится в (Д) горах. Исторический центр города расположен в пределах площади Регистан, объявленной объектом Всемирного наследия ЮНЕСКО.**



**14. Назовите известный пролив, местные названия которого Истамбул-Богазы, Карадениз-Богазы, Богазичи.**

**15. Назовите страны, о которых идет речь. Эти пять стран, получивших независимость в 1950-1960-е гг. входят в одну международную организацию.**

- A. Самое восточное государство – наиболее обеспеченная нефтью страна материка, занимающего центральное географическое положение относительно мировой системы координат**
- B. На территории самого западного государства находятся эксклавы страны, расположенной на другом материке**
- C. Территория самой маленькой страны привлекала внимание еще с древних пор, не случайно финикийцами здесь были основаны города, один из которых становится на долгие годы главным городом данного материка**
- D. В этом государстве рабство было отменено только в 2007 г., но военная хунта, пришедшая к власти через год, де-факто отменило преследование рабовладельцев, в результате чего рабами здесь является 20% населения**
- E. Страна названа по своей столице, название которой в переводе с языка коренного населения – «острова», т.к. город основан в X в. на четырех прибрежных островах, но уже в XI в. город вышел на материк и сейчас тянется на 15 км вдоль берега моря.**